

Use $<$, $>$ or $=$ to compare.

1) $|-14|$ ___ $|-48|$

2) -14 ___ $|-98|$

3) 12 ___ $|62|$

4) $|-42|$ ___ 13

5) 51 ___ 89

6) $|9|$ ___ $|59|$

7) -37 ___ $|69|$

8) $|21|$ ___ $|54|$

9) $|-88|$ ___ $|-24|$

10) $|-73|$ ___ $|56|$

11) $|-70|$ ___ -90

12) -47 ___ $|45|$

13) $|16|$ ___ $|-47|$

14) $|13|$ ___ $|-93|$

15) 27 ___ 18

16) $|9|$ ___ $|-59|$

17) 1 ___ -17

18) -12 ___ 18

19) 42 ___ $|54|$

20) -60 ___ -56

Answers

1. _____

2. _____

3. _____

4. _____

5. _____

6. _____

7. _____

8. _____

9. _____

10. _____

11. _____

12. _____

13. _____

14. _____

15. _____

16. _____

17. _____

18. _____

19. _____

20. _____

Use $<$, $>$ or $=$ to compare.

1) $|-14| < |-48|$

2) $-14 < |-98|$

3) $12 < |62|$

4) $|-42| > 13$

5) $51 < 89$

6) $|9| < |59|$

7) $-37 < |69|$

8) $|21| < |54|$

9) $|-88| > |-24|$

10) $|-73| > |56|$

11) $|-70| > -90$

12) $-47 < |45|$

13) $|16| < |-47|$

14) $|13| < |-93|$

15) $27 > 18$

16) $|9| < |-59|$

17) $1 > -17$

18) $-12 < 18$

19) $42 < |54|$

20) $-60 < -56$

Answers1. $<$ 2. $<$ 3. $<$ 4. $>$ 5. $<$ 6. $<$ 7. $<$ 8. $<$ 9. $>$ 10. $>$ 11. $>$ 12. $<$ 13. $<$ 14. $<$ 15. $>$ 16. $<$ 17. $>$ 18. $<$ 19. $<$ 20. $<$



Use $<$, $>$ or $=$ to compare.

Answers

1) $|-10|$ ___ 58

1. _____

2) -31 ___ 48

2. _____

3) 28 ___ -3

3. _____

4) -45 ___ -74

4. _____

5) -31 ___ $|87|$

5. _____

6) 75 ___ 30

6. _____

7) $|46|$ ___ 82

7. _____

8) 25 ___ 46

8. _____

9) $|-89|$ ___ $|60|$

9. _____

10) $|46|$ ___ $|-5|$

10. _____

11) -59 ___ -38

11. _____

12) $|51|$ ___ $|29|$

12. _____

13) $|2|$ ___ -3

13. _____

14) $|-42|$ ___ $|-78|$

14. _____

15) $|73|$ ___ $|77|$

15. _____

16) 96 ___ $|-86|$

16. _____

17) $|-60|$ ___ $|-57|$

17. _____

18) -42 ___ $|-9|$

18. _____

19) $|-13|$ ___ $|51|$

19. _____

20) $|-67|$ ___ $|57|$

20. _____

Use $<$, $>$ or $=$ to compare.

1) $|-10|$ $<$ 58

2) -31 $<$ 48

3) 28 $>$ -3

4) -45 $>$ -74

5) -31 $<$ $|87|$

6) 75 $>$ 30

7) $|46|$ $<$ 82

8) 25 $<$ 46

9) $|-89|$ $>$ $|60|$

10) $|46|$ $>$ $|-5|$

11) -59 $<$ -38

12) $|51|$ $>$ $|29|$

13) $|2|$ $>$ -3

14) $|-42|$ $<$ $|-78|$

15) $|73|$ $<$ $|77|$

16) 96 $>$ $|-86|$

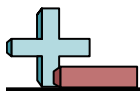
17) $|-60|$ $>$ $|-57|$

18) -42 $<$ $|-9|$

19) $|-13|$ $<$ $|51|$

20) $|-67|$ $>$ $|57|$

Answers1. $<$ 2. $<$ 3. $>$ 4. $>$ 5. $<$ 6. $>$ 7. $<$ 8. $<$ 9. $>$ 10. $>$ 11. $<$ 12. $>$ 13. $>$ 14. $<$ 15. $<$ 16. $>$ 17. $>$ 18. $<$ 19. $<$ 20. $>$

Use $<$, $>$ or $=$ to compare.**Answers**

1) $|41|$ ___ $|90|$

1. _____

2) -39 ___ 47

2. _____

3) -63 ___ -58

3. _____

4) $|-93|$ ___ $|-92|$

4. _____

5) $|69|$ ___ -27

5. _____

6) 8 ___ 58

6. _____

7) 35 ___ -17

7. _____

8) 90 ___ $|21|$

8. _____

9) -49 ___ -14

9. _____

10) $|23|$ ___ 40

10. _____

11) $|-10|$ ___ $|56|$

11. _____

12) -47 ___ $|-69|$

12. _____

13) $|31|$ ___ $|53|$

13. _____

14) $|90|$ ___ $|-19|$

14. _____

15) $|-28|$ ___ $|16|$

15. _____

16) $|-65|$ ___ 33

16. _____

17) 77 ___ 26

17. _____

18) $|-91|$ ___ $|-82|$

18. _____

19) $|27|$ ___ -14

19. _____

20) -32 ___ $|-48|$

20. _____

Use $<$, $>$ or $=$ to compare.

1) $|41| < |90|$

2) $-39 < 47$

3) $-63 < -58$

4) $|-93| > |-92|$

5) $|69| > -27$

6) $8 < 58$

7) $35 > -17$

8) $90 > |21|$

9) $-49 < -14$

10) $|23| < 40$

11) $|-10| < |56|$

12) $-47 < |-69|$

13) $|31| < |53|$

14) $|90| > |-19|$

15) $|-28| > |16|$

16) $|-65| > 33$

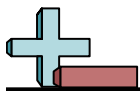
17) $77 > 26$

18) $|-91| > |-82|$

19) $|27| > -14$

20) $-32 < |-48|$

Answers1. $<$ 2. $<$ 3. $<$ 4. $>$ 5. $>$ 6. $<$ 7. $>$ 8. $>$ 9. $<$ 10. $<$ 11. $<$ 12. $<$ 13. $<$ 14. $>$ 15. $>$ 16. $>$ 17. $>$ 18. $>$ 19. $>$ 20. $<$

Use $<$, $>$ or $=$ to compare.

1) -2 ___ -58

2) $|93|$ ___ 67

3) $|-33|$ ___ -47

4) 36 ___ 91

5) $|49|$ ___ -23

6) 4 ___ $|35|$

7) 91 ___ $|-31|$

8) $|85|$ ___ $|50|$

9) $|10|$ ___ $|-30|$

10) -95 ___ -6

11) $|74|$ ___ $|-92|$

12) $|88|$ ___ -64

13) 15 ___ 97

14) $|94|$ ___ $|-39|$

15) $|-74|$ ___ $|-85|$

16) $|99|$ ___ $|-63|$

17) 13 ___ -72

18) $|6|$ ___ $|14|$

19) 53 ___ $|-91|$

20) $|-28|$ ___ $|-93|$

Answers

1. _____

2. _____

3. _____

4. _____

5. _____

6. _____

7. _____

8. _____

9. _____

10. _____

11. _____

12. _____

13. _____

14. _____

15. _____

16. _____

17. _____

18. _____

19. _____

20. _____

Use $<$, $>$ or $=$ to compare.

1) $-2 > -58$

2) $|93| > 67$

3) $|-33| > -47$

4) $36 < 91$

5) $|49| > -23$

6) $4 < |35|$

7) $91 > |-31|$

8) $|85| > |50|$

9) $|10| < |-30|$

10) $-95 < -6$

11) $|74| < |-92|$

12) $|88| > -64$

13) $15 < 97$

14) $|94| > |-39|$

15) $|-74| < |-85|$

16) $|99| > |-63|$

17) $13 > -72$

18) $|6| < |14|$

19) $53 < |-91|$

20) $|-28| < |-93|$

Answers1. $>$ 2. $>$ 3. $>$ 4. $<$ 5. $>$ 6. $<$ 7. $>$ 8. $>$ 9. $<$ 10. $<$ 11. $<$ 12. $>$ 13. $<$ 14. $>$ 15. $<$ 16. $>$ 17. $>$ 18. $<$ 19. $<$ 20. $<$



Use $<$, $>$ or $=$ to compare.

Answers

1) $|18|$ ___ $|69|$

1. _____

2) -18 ___ -30

2. _____

3) -74 ___ -35

3. _____

4) 82 ___ 70

4. _____

5) $|-23|$ ___ 68

5. _____

6) $|28|$ ___ $|-56|$

6. _____

7) -49 ___ $|4|$

7. _____

8) $|-14|$ ___ $|13|$

8. _____

9) 58 ___ -44

9. _____

10) 89 ___ $|17|$

10. _____

11) $|47|$ ___ -58

11. _____

12) $|-6|$ ___ $|-44|$

12. _____

13) 9 ___ -99

13. _____

14) -18 ___ $|-26|$

14. _____

15) $|58|$ ___ $|5|$

15. _____

16) 38 ___ $|-86|$

16. _____

17) $|-76|$ ___ $|58|$

17. _____

18) $|-79|$ ___ -75

18. _____

19) 17 ___ $|21|$

19. _____

20) 58 ___ 64

20. _____

Use $<$, $>$ or $=$ to compare.

1) $|18| < |69|$

2) $-18 > -30$

3) $-74 < -35$

4) $82 > 70$

5) $|-23| < 68$

6) $|28| < |-56|$

7) $-49 < |4|$

8) $|-14| > |13|$

9) $58 > -44$

10) $89 > |17|$

11) $|47| > -58$

12) $|-6| < |-44|$

13) $9 > -99$

14) $-18 < |-26|$

15) $|58| > |5|$

16) $38 < |-86|$

17) $|-76| > |58|$

18) $|-79| > -75$

19) $17 < |21|$

20) $58 < 64$

Answers1. $<$ 2. $>$ 3. $<$ 4. $>$ 5. $<$ 6. $<$ 7. $<$ 8. $>$ 9. $>$ 10. $>$ 11. $>$ 12. $<$ 13. $>$ 14. $<$ 15. $>$ 16. $<$ 17. $>$ 18. $>$ 19. $<$ 20. $<$

Use $<$, $>$ or $=$ to compare.

1) $|-17|$ ___ $|-63|$

2) 33 ___ 72

3) $|-62|$ ___ $|-21|$

4) 3 ___ 82

5) $|-31|$ ___ -10

6) $|82|$ ___ $|-13|$

7) -24 ___ -50

8) $|-85|$ ___ $|36|$

9) $|47|$ ___ 50

10) -35 ___ 27

11) $|-70|$ ___ $|57|$

12) -60 ___ $|-82|$

13) $|86|$ ___ $|58|$

14) 48 ___ $|-45|$

15) $|55|$ ___ -81

16) 37 ___ $|-57|$

17) 46 ___ -7

18) $|13|$ ___ $|73|$

19) -38 ___ -50

20) $|51|$ ___ -98

Answers

1. _____

2. _____

3. _____

4. _____

5. _____

6. _____

7. _____

8. _____

9. _____

10. _____

11. _____

12. _____

13. _____

14. _____

15. _____

16. _____

17. _____

18. _____

19. _____

20. _____

Use $<$, $>$ or $=$ to compare.

1) $|-17| < |-63|$

2) $33 < 72$

3) $|-62| > |-21|$

4) $3 < 82$

5) $|-31| > -10$

6) $|82| > |-13|$

7) $-24 > -50$

8) $|-85| > |36|$

9) $|47| < 50$

10) $-35 < 27$

11) $|-70| > |57|$

12) $-60 < |-82|$

13) $|86| > |58|$

14) $48 > |-45|$

15) $|55| > -81$

16) $37 < |-57|$

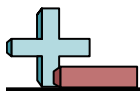
17) $46 > -7$

18) $|13| < |73|$

19) $-38 > -50$

20) $|51| > -98$

Answers1. $<$ 2. $<$ 3. $>$ 4. $<$ 5. $>$ 6. $>$ 7. $>$ 8. $>$ 9. $<$ 10. $<$ 11. $>$ 12. $<$ 13. $>$ 14. $>$ 15. $>$ 16. $<$ 17. $>$ 18. $<$ 19. $>$ 20. $>$

Use $<$, $>$ or $=$ to compare.

1) 5 ___ $|-81|$

2) $|-35|$ ___ $|14|$

3) $|-76|$ ___ -82

4) 16 ___ $|99|$

5) $|61|$ ___ $|19|$

6) $|45|$ ___ $|26|$

7) 2 ___ 70

8) $|-35|$ ___ $|-31|$

9) 83 ___ -46

10) -69 ___ -66

11) -84 ___ $|32|$

12) $|-38|$ ___ $|78|$

13) 20 ___ 74

14) $|37|$ ___ $|-80|$

15) -57 ___ -27

16) $|-93|$ ___ $|-26|$

17) $|85|$ ___ 11

18) $|-54|$ ___ -46

19) $|-95|$ ___ 32

20) -30 ___ 95

Answers

1. _____

2. _____

3. _____

4. _____

5. _____

6. _____

7. _____

8. _____

9. _____

10. _____

11. _____

12. _____

13. _____

14. _____

15. _____

16. _____

17. _____

18. _____

19. _____

20. _____

Use $<$, $>$ or $=$ to compare.

1) $5 < |-81|$

2) $|-35| > |14|$

3) $|-76| > -82$

4) $16 < |99|$

5) $|61| > |19|$

6) $|45| > |26|$

7) $2 < 70$

8) $|-35| > |-31|$

9) $83 > -46$

10) $-69 < -66$

11) $-84 < |32|$

12) $|-38| < |78|$

13) $20 < 74$

14) $|37| < |-80|$

15) $-57 < -27$

16) $|-93| > |-26|$

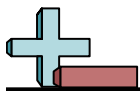
17) $|85| > 11$

18) $|-54| > -46$

19) $|-95| > 32$

20) $-30 < 95$

Answers1. $<$ 2. $>$ 3. $>$ 4. $<$ 5. $>$ 6. $>$ 7. $<$ 8. $>$ 9. $>$ 10. $<$ 11. $<$ 12. $<$ 13. $<$ 14. $<$ 15. $<$ 16. $>$ 17. $>$ 18. $>$ 19. $>$ 20. $<$

Use $<$, $>$ or $=$ to compare.

1) $|-8|$ ___ -65

2) $|20|$ ___ 75

3) $|-75|$ ___ $|-6|$

4) 77 ___ 15

5) -52 ___ -80

6) $|-88|$ ___ $|-96|$

7) $|-3|$ ___ -6

8) $|79|$ ___ $|46|$

9) $|70|$ ___ $|8|$

10) 3 ___ $|0|$

11) 44 ___ $|-1|$

12) -23 ___ $|91|$

13) -69 ___ 38

14) 31 ___ -87

15) $|13|$ ___ 38

16) -72 ___ -80

17) $|39|$ ___ $|-55|$

18) 78 ___ 42

19) $|17|$ ___ $|-20|$

20) $|43|$ ___ $|-36|$

Answers

1. _____

2. _____

3. _____

4. _____

5. _____

6. _____

7. _____

8. _____

9. _____

10. _____

11. _____

12. _____

13. _____

14. _____

15. _____

16. _____

17. _____

18. _____

19. _____

20. _____



Use $<$, $>$ or $=$ to compare.

1) $|-8|$ $>$ -65

2) $|20|$ $<$ 75

3) $|-75|$ $>$ $|-6|$

4) 77 $>$ 15

5) -52 $>$ -80

6) $|-88|$ $<$ $|-96|$

7) $|-3|$ $>$ -6

8) $|79|$ $>$ $|46|$

9) $|70|$ $>$ $|8|$

10) 3 $>$ $|0|$

11) 44 $>$ $|-1|$

12) -23 $<$ $|91|$

13) -69 $<$ 38

14) 31 $>$ -87

15) $|13|$ $<$ 38

16) -72 $>$ -80

17) $|39|$ $<$ $|-55|$

18) 78 $>$ 42

19) $|17|$ $<$ $|-20|$

20) $|43|$ $>$ $|-36|$

Answers

1. $>$

2. $<$

3. $>$

4. $>$

5. $>$

6. $<$

7. $>$

8. $>$

9. $>$

10. $>$

11. $>$

12. $<$

13. $<$

14. $>$

15. $<$

16. $>$

17. $<$

18. $>$

19. $<$

20. $>$

Use $<$, $>$ or $=$ to compare.

1) 73 ___ 34

2) $|-19|$ ___ $|80|$

3) $|-37|$ ___ 42

4) $|-65|$ ___ $|-96|$

5) $|-72|$ ___ $|83|$

6) -39 ___ -62

7) $|26|$ ___ $|27|$

8) -38 ___ -43

9) -6 ___ $|5|$

10) 83 ___ -18

11) $|54|$ ___ $|-45|$

12) $|61|$ ___ -60

13) $|9|$ ___ $|-3|$

14) 93 ___ 26

15) 3 ___ $|-79|$

16) 42 ___ -7

17) -41 ___ $|-19|$

18) $|95|$ ___ $|40|$

19) $|-69|$ ___ $|-27|$

20) $|24|$ ___ 65

Answers

1. _____

2. _____

3. _____

4. _____

5. _____

6. _____

7. _____

8. _____

9. _____

10. _____

11. _____

12. _____

13. _____

14. _____

15. _____

16. _____

17. _____

18. _____

19. _____

20. _____

Use $<$, $>$ or $=$ to compare.

1) $73 > 34$

2) $|-19| < |80|$

3) $|-37| < 42$

4) $|-65| < |-96|$

5) $|-72| < |83|$

6) $-39 > -62$

7) $|26| < |27|$

8) $-38 > -43$

9) $-6 < |5|$

10) $83 > -18$

11) $|54| > |-45|$

12) $|61| > -60$

13) $|9| > |-3|$

14) $93 > 26$

15) $3 < |-79|$

16) $42 > -7$

17) $-41 < |-19|$

18) $|95| > |40|$

19) $|-69| > |-27|$

20) $|24| < 65$

Answers1. $>$ 2. $<$ 3. $<$ 4. $<$ 5. $<$ 6. $>$ 7. $<$ 8. $>$ 9. $<$ 10. $>$ 11. $>$ 12. $>$ 13. $>$ 14. $>$ 15. $<$ 16. $>$ 17. $<$ 18. $>$ 19. $>$ 20. $<$

Use $<$, $>$ or $=$ to compare.

1) $|-71|$ ___ $|-64|$

2) $|67|$ ___ $|62|$

3) -84 ___ 49

4) 97 ___ 84

5) $|81|$ ___ $|8|$

6) $|-11|$ ___ -50

7) $|-36|$ ___ $|75|$

8) -12 ___ -36

9) $|90|$ ___ $|-89|$

10) 7 ___ $|-55|$

11) $|29|$ ___ 66

12) -26 ___ -59

13) 10 ___ 19

14) $|23|$ ___ -4

15) -52 ___ $|22|$

16) $|-87|$ ___ $|53|$

17) $|10|$ ___ $|-69|$

18) 49 ___ -30

19) 61 ___ $|-51|$

20) -35 ___ $|-38|$

Answers

1. _____

2. _____

3. _____

4. _____

5. _____

6. _____

7. _____

8. _____

9. _____

10. _____

11. _____

12. _____

13. _____

14. _____

15. _____

16. _____

17. _____

18. _____

19. _____

20. _____

Use $<$, $>$ or $=$ to compare.

1) $|-71| \underline{>} |-64|$

2) $|67| \underline{>} |62|$

3) $-84 \underline{<} 49$

4) $97 \underline{>} 84$

5) $|81| \underline{>} |8|$

6) $|-11| \underline{>} -50$

7) $|-36| \underline{<} |75|$

8) $-12 \underline{>} -36$

9) $|90| \underline{>} |-89|$

10) $7 \underline{<} |-55|$

11) $|29| \underline{<} 66$

12) $-26 \underline{>} -59$

13) $10 \underline{<} 19$

14) $|23| \underline{>} -4$

15) $-52 \underline{<} |22|$

16) $|-87| \underline{>} |53|$

17) $|10| \underline{<} |-69|$

18) $49 \underline{>} -30$

19) $61 \underline{>} |-51|$

20) $-35 \underline{<} |-38|$

Answers1. $\underline{>}$ 2. $\underline{>}$ 3. $\underline{<}$ 4. $\underline{>}$ 5. $\underline{>}$ 6. $\underline{>}$ 7. $\underline{<}$ 8. $\underline{>}$ 9. $\underline{>}$ 10. $\underline{<}$ 11. $\underline{<}$ 12. $\underline{>}$ 13. $\underline{<}$ 14. $\underline{>}$ 15. $\underline{<}$ 16. $\underline{>}$ 17. $\underline{<}$ 18. $\underline{>}$ 19. $\underline{>}$ 20. $\underline{<}$